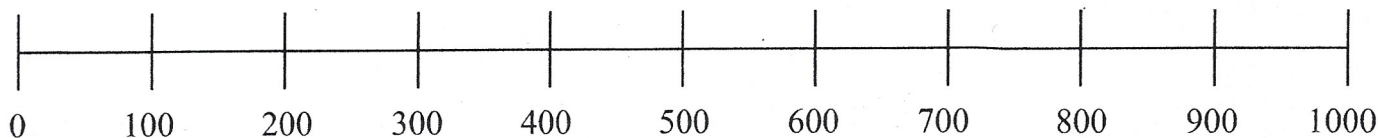


# Čísla 0–1000



**131** Dopln.

100, 200, \_\_\_\_\_ 1000

1000, \_\_\_\_\_ 100

101	102							109	110
111		113						118	120
121			124			127			130
131				135	136				140
141				145	146				150
151			154			157			160
161		163						168	170
171	172							179	180
181		183						188	190
191			194			197			200

**134** Porovnej: >, <, =

600  > 200

400  500

900  300

700  800

500  200

800  600

400  400

100  200

300  300

500  700

400  900

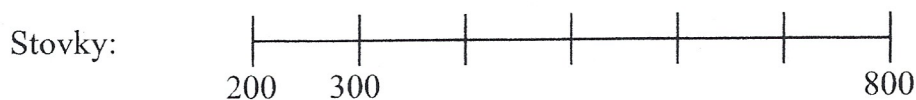
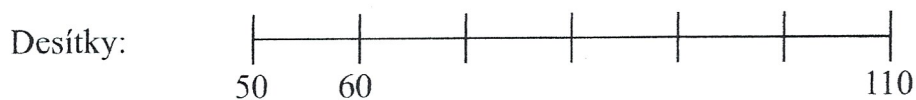
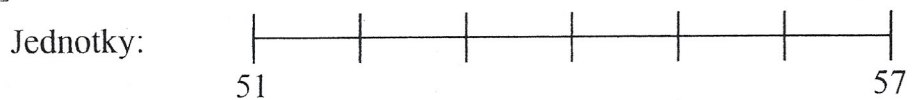
150  250

230  430

460  460

390  190

**132** Dopln čísla, která chybějí.



**135** Vypočítej.

	+2	-2
447	445	443
	279	
	368	
	998	
	131	
	550	
	783	

**133** Zapiš číslo, které má:

4 stovky, 2 desítky a 5 jednotek \_\_\_\_\_

5 stovek, 4 desítky a 1 jednotku \_\_\_\_\_

7 stovek, 8 desítek a 8 jednotek \_\_\_\_\_

9 stovek, 3 desítky a 2 jednotky \_\_\_\_\_

3 stovky, 0 desítek a 7 jednotek \_\_\_\_\_